

## ЗАДАНИЯ ДЛЯ 1–2 КЛАССОВ

1. Ночью звёзды видны лучше, если за ними наблюдать...

**А** вдалеке от освещения.

**Б** в свете фонарей.

**В** при полной луне.

**Г** во время слабого дождя.

2. Чтобы обратить внимание на экологические проблемы, во всём мире ежегодно проходит акция «Час Земли». Как людям предлагается поддержать нашу планету?



**А** Запустить в небо голубой шарик.

**Б** Выключить в доме свет на 60 минут.

**В** Срубить дерево, загораживающее дом от солнечного света.

**Г** Сделать на рассвете зарядку.

3. Что должно находиться в воздухе, чтобы в лучах солнца появилась радуга?

**А** Капельки воды.

**Б** Разноцветные насекомые.

**В** Пыльца растений.

**Г** Дорожная пыль.

4. Какая тень НЕ МОГЛА быть получена в солнечный день от круглого бублика?



**А**



**Б**



**В**



**Г**

5. На какой картинке показан источник света с самым слабым свечением?



**А** Солнце



**Б** Лампа



**В** Костер



**Г** Светлячок

6. Какие часы предназначены для измерения времени по положению тени?



**А**



**Б**



**В**



**Г**

**7. На фотографии показаны потоки автомобилей. Какие автомобили движутся к фотографу?**

- А** В потоке слева.
- Б** В потоке справа.
- В** Все показанные.
- Г** Только находящиеся вдалеке.



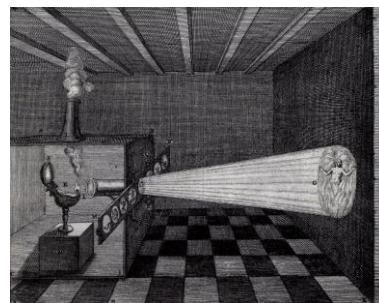
**8. Велосипед долго простоял под жарким солнцем. Какая из перечисленных деталей велосипеда нагрелась сильнее всего?**

- А** Корзина.    **Б** Рама.
- В** Седло.     **Г** Светоотражатель на колесе.



**9. С помощью светового проектора маги прошлого показывали доверчивой публике «призраков». Для большего устрашения свет с изображением призрака маги направляли не на стену, а на...**

- А** клубы дыма.                      **Б** капли дождя.
- В** безоблачное небо.              **Г** поверхность воды.



**10. На негативном изображении тёмные предметы выглядят светлыми, а светлые – тёмными. Какая из представленных фотографий негативная?**



**А**



**Б**



**В**



**Г**

**11. Что делает повар с изделием из сырого теста, чтобы оно покрылось хрустящей золотистой или коричневой корочкой?**

- А** Помещает в горячую печь.
- Б** Помещает в морозильную камеру.
- В** Подкрашивает гуашью.
- Г** Располагает около вентилятора.



**12.** Маяки – это сооружения, помогающие морякам понять, где расположен берег. Что может помешать морякам издали заметить маяк?

- А** Большая высота маяка.
- Б** Яркое свечение огня маяка.
- В** Густой туман вокруг маяка.
- Г** Близкое расположение маяка к воде.



**13.** Какое осветительное устройство человек придумал раньше других?



**А**



**Б**



**В**



**Г**

**14.** Что школьнику рекомендуется носить на верхней одежде, чтобы быть заметным для водителей автомобилей даже в при плохом освещении?



**А**



**Б**



**В**



**Г**

**15.** На какой фотографии показан солнечный зайчик?



**А**



**Б**



**В**



**Г**

**16.** Плоды одуванчика имеют хохолки из белых волосков. А какой цвет имеют его цветки?

- А** Белый.
- Б** Жёлтый.
- В** Синий.
- Г** Зелёный.

**17.** С приходом определённого времени года и солнечных дней на лице могут появляться небольшие пятна коричневатого цвета. Как они называются?

- А** Зимушками.
- Б** Веснушками.
- В** Летушками.
- Г** Осенюшками.



**18.** Когда этот овощ зеленеет, его нельзя употреблять в пищу, потому что в нём появляется яд. Что это за овощ?

- А** Кабачок.      **Б** Огурец.      **В** Картофель.      **Г** Перец.

**19.** У этой неядовитой змеи на голове есть жёлтые или оранжевые пятна. Как она называется?

- А** Удав.      **Б** Кобра.  
**В** Уж.      **Г** Гадюка.



**20.** Весной цветки многих лесных растений хорошо видны даже в тени. В какой цвет они чаще всего окрашены?

- А** Красный.      **Б** Белый.      **В** Зелёный.      **Г** Чёрный.

**21.** Многие знают об охотнике и о его желании знать, где сидит фазан, но реже вспоминают об одном звонаре: «Как Однажды ...–Звонарь Головой Сломал Фонарь». А как звали звонаря?

- А** Влас.      **Б** Жак.      **В** Пётр.      **Г** Ян.

**22.** Что НЕ относится к световым явлениям?

- А** Гром.      **Б** Заря.  
**В** Мираж.      **Г** Радуга.

**23.** Какое наибольшее количество трёхцветных флагов с горизонтальными полосами можно сделать из материи трёх цветов?


- А** 1.      **Б** 2.      **В** 4.      **Г** 6.

**24.** Из чего сделана эта зелёная шкатулка?

- А** Льда.      **Б** Малахита.  
**В** Золота.      **Г** Янтаря.




**25.** Найди ответ на загадку:  
«Скатерть бела всю землю одела».



**А** Морская пена



**Б** Облака



**В** Снег



**Г** Звёздное небо