

## ЗАДАНИЯ ДЛЯ ДОШКОЛЬНИКОВ

**1.** Мы видим Луну на небе, потому что на её поверхность попадает свет. Чьё освещение делает Луну заметной?

- А** Облаков.
- Б** Земли.
- В** Полярной звезды.
- Г** Солнца.



**2.** С помощью чего учёные наблюдают за движением ураганов?

- А** Ветряных мельниц.
- Б** Термометров.
- В** Спутников.
- Г** Компасов.

**3.** В солнечную погоду от столба образуется тень. При движении Солнца тень тоже движется и меняет свою длину. В какое время суток тень бывает самой короткой?

- А** Рано утром.
- Б** Поздно вечером.
- В** Днём.
- Г** Ночью.

**4.** Костя сфотографировал отражение ночного города от поверхности воды. Какому городскому пейзажу соответствует это отражение?



**А**



**Б**



**В**




**Г**

**5.** Катя посмотрела на морской песок через увеличительное стекло. Что она увидела?



**А**



**Б**

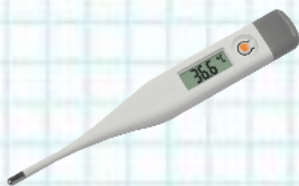


**В**



**Г**

**6.** Какой из показанных предметов на самом деле самый большой?



**А**



**Б**



**В**



**Г**

**7.** Каких плодов показано больше всего?



**А**



**Б**



**В**



**Г**

**8.** Какой плод может вырасти самым крупным?



**А**



**Б**



**В**



**Г**

**9.** Какой пищевой продукт из-за состава и вкуса называют кисломолочным?



**А**



**Б**




**В**



**Г**

**10.** На рисунках показаны опыты с растением. Что повлияло на направление роста растения?

- А** Почва.
- Б** Воздух.
- В** Вода.
- Г** Свет.



**11.** Какая вода меньше всего пригодна для полива комнатных растений?

- А** Дождевая.
- Б** Речная.
- В** Водопроводная.
- Г** Морская.

**12.** Если семянку подсолнечника раздавить, то на листе бумаги останется невысыхающее пятно. Это означает, что в семянке содержится...

- А** масло.
- Б** соль.
- В** сахар.
- Г** вода.



**13.** В каком порядке нужно расставить картинки, чтобы показать изменения силы ветра от слабого к сильному?



1



2



3

**А** 1, 2, 3.

**Б** 1, 3, 2.

**В** 2, 1, 3.

**Г** 2, 3, 1.

**14.** Братья-изобретатели Монгольфье любили смотреть на плывущие облака и мечтать, как было бы здорово обернуть облако в ткань или бумагу. Так появилось их техническое изобретение. На какой картинке оно показано?



**А**



**Б**



**В**



**Г**

**15.** Разгадай загадку и выбери измерительный прибор.  
«За окном Ивашка –  
Стеклянная рубашка.  
На рубашке метки –  
Не густы, не редки».



**А**



**Б**



**В**



**Г**